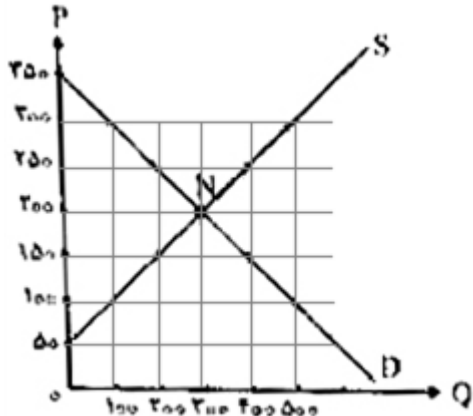
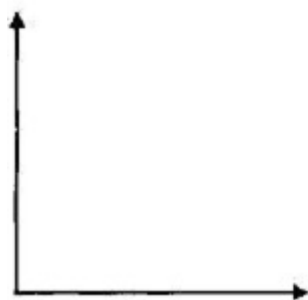


ردیف	لطفا پاسخ سوالات را روی همین برگ بنویسید	بارم												
۱	<p>با توجه به جدول مقابل که نشان‌دهنده مقادیر عرضه و تقاضا برای کالایی خاص است به‌ترتیب:</p> <p>الف) مقدار مازاد تقاضا و مقدار مازاد عرضه چند واحد است؟</p> <p>ب) کدام ردیف نشان‌دهنده مقدار عرضه است؟</p> <p>ج) عرضه‌کنندگان در قیمت تعادلی چند واحد کالا عرضه می‌کنند.</p> <table><tr><td>قیمت</td><td>۲۰</td><td>۳۰</td><td>۴۰</td></tr><tr><td>مقدار X</td><td>۳۰</td><td>۵۰</td><td>۶۰</td></tr><tr><td>مقدار Y</td><td>۷۰</td><td>۵۰</td><td>۱۰</td></tr></table> <p>۱ الف (۵۰ - ۴۰) ب) X (ج) ۱۰</p> <p>۲ الف (۵۰ - ۴۰) ب) Y (ج) ۱۰</p> <p>۳ الف (۵۰ - ۴۰) ب) Y (ج) ۵۰</p> <p>۴ الف (۵۰ - ۴۰) ب) X (ج) ۵۰</p>	قیمت	۲۰	۳۰	۴۰	مقدار X	۳۰	۵۰	۶۰	مقدار Y	۷۰	۵۰	۱۰	۱
قیمت	۲۰	۳۰	۴۰											
مقدار X	۳۰	۵۰	۶۰											
مقدار Y	۷۰	۵۰	۱۰											
۲	<p>چند مورد از عبارات زیر <u>نادرست</u> است؟</p> <p>الف) مالیات بر مصرف، مالیاتی است که مصرف‌کنندگان کالاهای خاص در زمان خرید آن کالا (به همراه قیمت کالا) پرداخت می‌کنند.</p> <p>ب) در مالیات بر دارایی که شاید بتوان گفت مهم‌ترین نوع مالیات است، درآمد و ثروت اشخاص مبنای مالیات قرار می‌گیرد.</p> <p>پ) دریافت مالیات برای تأمین مالی اهداف و پشتیبانی از فعالیت‌های دولت مانند امنیت و امور قضایی، ضروری است.</p> <p>ت) انواع عوارض درج شده در قبض‌های شهرداری، مالیات تلقی می‌شود. شهرداری در مقابل خدماتی که ارائه می‌کند، وجوهی مانند عوارض خودرو یا عوارض نوسازی دریافت می‌کند.</p> <p>ث) در مالیات بر ارزش افزوده، مالیات پرداخت‌شده‌ی تولیدکنندگان قبلی به مالیات بر فروش بعدی اضافه می‌شود، به عبارت دیگر کالا و خدمات تهایی و واسطه‌ای مشمول پرداخت مالیات‌اند.</p> <p>ج) دولت سالیانه بخشی از درآمد مورد نیاز خود را از طریق ایجاد بدهی تأمین می‌کند، که این درآمد به دلیل وجود مردم می‌تواند همیشه پایدار باشد.</p> <p>۱ ۱ ۲ ۲ ۳ ۳ ۴ ۴</p>	۲												
۳	<p>کدام گزینه از انواع مالیات مستقیم محسوب می‌شود؟</p> <p>۱ عوارض گمرکی و خدماتی</p> <p>۲ مالیات بر مصرف</p> <p>۳ مالیات بر ارزش افزوده</p> <p>۴ مالیات بر درآمد</p>	۳												

۱	<p>بازار کالایی در یک جامعه فرضی با «مازاد عرضه» مواجه است. در این شرایط چه اتفاقی در بازار می‌افتد؟</p> <p>۱ مصرف‌کنندگان برای دریافت کالای موردنیاز خود حاضرند پول بیشتری پرداخت کنند و در نتیجه، رغبت تولیدکنندگان برای تولید کالا، بیشتر می‌شود. به این ترتیب، تولید و عرضه کالا افزایش می‌یابد و این شرایط تا جایی پیش می‌رود که بازار به شرایط تعادل نزدیک می‌شود.</p> <p>۲ این شرایط زمانی اتفاق می‌افتد که قیمت‌ها کمتر از «قیمت تعادلی» باشد؛ در نتیجه تولیدکنندگان به دلیل درآمد پایین، رغبتی به تولید کالا و خدمات ندارند.</p> <p>۳ مصرف‌کنندگان به علت قیمت مناسب کالا، میزان تقاضای خود را تا حدی بالا می‌برند. از سوی دیگر، عرضه کالا کاهش می‌یابد و بازار به سمت تعادل پیش می‌رود، ولی قیمت‌ها همچنان ثابت باقی می‌ماند.</p> <p>۴ تولیدکنندگان برای اینکه بتوانند مشتری بیشتری برای کالای خود پیدا کنند و کالای بیشتری را بفروشند، قیمت کالا را کاهش می‌دهند. کاهش قیمت کالا، تقاضای مصرف‌کنندگان را افزایش می‌دهد و به این ترتیب، بازار به سمت تعادل حرکت می‌کند.</p>	۴
۱	<p>کدام گزینه جمله‌های زیر را کامل می‌کند؟</p> <p>الف) در بازار کالا و خدمات، خانوارها و بنگاه‌ها</p> <p>ب) حضوری و حقیقی بودن صادرات در بازار</p> <p>ج) دریافتی خانوارها بابت فروش نیروی کار نامیده می‌شود.</p> <p>د) با افزایش درآمد مقدار خرید کالای پست می‌یابد.</p> <p>۱ خریدار، فروشنده هستند - ضروری نیست - دستمزد - کاهش</p> <p>۲ فروشنده، خریدار هستند - ضروری است - سود - کاهش</p> <p>۳ تقاضاکننده - عرضه‌کننده هستند - ضروری است - دستمزد - افزایش</p> <p>۴ عرضه‌کننده، تقاضاکننده هستند - ضروری نیست - سود - افزایش</p>	۵
۱	<p>قیمت تعادلی چیست و اگر عرضه یا تقاضا بیش از قیمت تعادلی باشد چه روی می‌دهد؟</p>	۶
۰.۵	<p>جای خالی را با واژه مناسب پر کنید.</p> <p>اولین و مهم‌ترین هدف مالیات است.</p>	۷
۰.۵	<p>جای خالی را با واژه مناسب پر کنید.</p> <p>حرف S علامت اختصاری منحنی است.</p>	۸
۰.۵	<p>جای خالی را با کلمه مناسب پر کنید.</p> <p>دولت‌ها برای اداره امور کشور با توجه به درآمدها و هزینه‌هایشان، نیاز به یک برنامه دارند که در قالب نشان داده می‌شود.</p>	۹
۱	<p>جاهای خالی را با عبارات مناسب پر نمایید.</p> <p>شرکت توانیر به دلیل و شرکت خودرویی به دلایل انحصارگر در فروش کالای خود می‌باشد.</p>	۱۰
۱	<p>فرق مزایده با مناقصه و بازار انحصاری با رقابتی چیست؟</p>	۱۱

۱	انواع سرمایه را با ذکر مثال نام ببرید.	۱۲
۱	منظور از مخارج عمومی چیست؟ (با ذکر مثال)	۱۳
۱	<p>جملات ستون اول به کدامیک از مفاهیم ستون دوم اشاره دارد؟</p> <p>الف) دفع پسماند ب) مالیات بر خودرو ج) ورود چند فروند خودرو از آلمان د) مالیات بر مشروبات غیرالکلی</p> <p>۱) گمرکی ۲) مالیات بر دارایی ۳) مالیات بر مصرف ۴) عوارض گمرک</p>	۱۴
۱	<p>نمودار زیر منحنی‌های عرضه و تقاضای نوعی خودرو را نشان می‌دهد. با توجه به نمودار، کدام گزینه مشتمل بر پاسخ درست پرسش‌های زیر است؟ (قیمت‌ها به میلیون تومان است.)</p>  <p>الف) چنانچه کارخانه از فناوری پیشرفته‌تر برای عرضه و تولید استفاده کند، با توجه به این تغییرات، قیمت و مقدار تعادلی چه تغییری خواهند کرد؟ ب) قبل از تغییرات ذکرشده در قسمت (الف)، مقدار پرداختی خانوارها برای تأمین خودروی مورد نیاز خود در سطح قیمت ۱۵۰ میلیون تومان، بوده است؟ پ) «روی منحنی عرضه» با حرکت از سمت راست به چپ، شاهد هستیم.</p> <p>۱) الف: قیمت و مقدار تعادلی هر دو افزایش می‌یابند. ب: ۶۰ میلیون تومان پ: کاهش قیمت‌ها و در نتیجه کمبود</p> <p>۲) الف: قیمت و مقدار تعادلی هر دو افزایش می‌یابند. ب: ۶۰ میلیون تومان پ: کاهش قیمت‌ها و در نتیجه کمبود</p> <p>۳) الف: مقدار تعادلی افزایش و قیمت تعادلی کاهش می‌یابد. ب: ۳۰ میلیارد تومان پ: عدم موفقیت تولیدکنندگان در فروش محصول خود</p> <p>۴) الف: قیمت و مقدار تعادلی هر دو افزایش می‌یابند. ب: ۶۰ میلیارد تومان پ: افزایش قیمت‌ها و در نتیجه، افزایش عرضه و تولید</p>	۱۵

جدول زیر را کامل کنید و سپس منحنی عرضه را در نمودار مختصات رسم نمایید.



قیمت برنج به تومان	عرضه به کیلو
۲۰۰۰۰	۴۰۰
۳۰۰۰۰
۴۰۰۰۰
۵۰۰۰۰

۱۶

۲

با توجه جدول زیر به سؤالات پاسخ دهید.

ردیف	قیمت (به ریال)	مقدار تقاضا (به کیلو)	مقدار عرضه (به کیلو)
۱	۱۰۰	۱۲۰۰	۰
۲	۱۵۰	۱۰۰۰	۲۰۰
۳	۲۰۰	۸۰۰	۴۰۰
۴	۲۵۰	۶۰۰	۶۰۰
۵	۳۰۰	۴۰۰	۸۰۰
۶	۳۵۰	۲۰۰	۱۰۰۰
۷	۴۰۰	۰	۱۲۰۰

۱۷

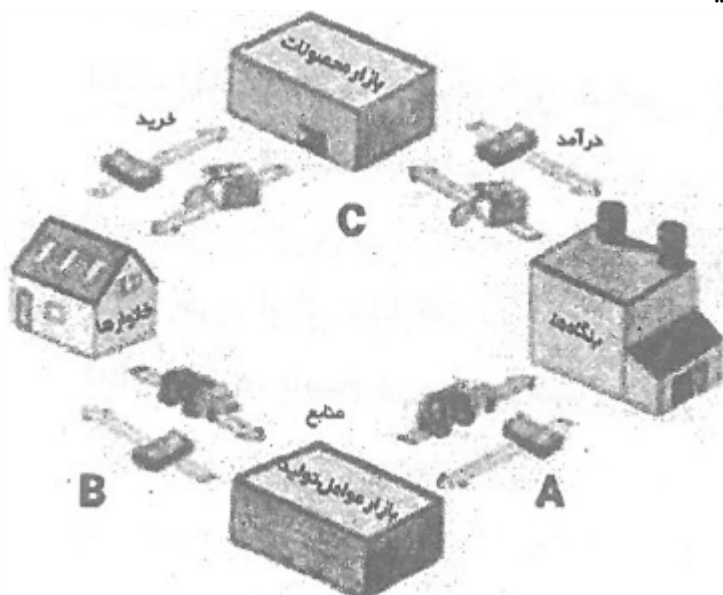
۱.۵

الف) قیمت تعادلی و مقدار تعادلی را مشخص کنید.

ب) در چه ردیف‌هایی از جدول مازاد عرضه دیده می‌شود؟

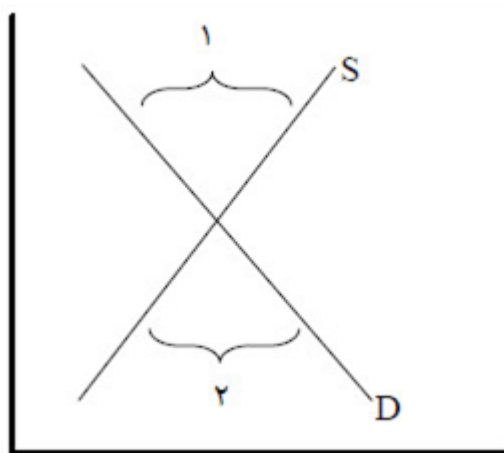
ج) در چه ردیف‌هایی از جدول کمبود عرضه دیده می‌شود؟

با توجه به مدل جریان چرخشی، کدام گزینه شامل پاسخ درست پرسش‌های زیر است؟
 الف) هریک از حروف A و B و C به ترتیب نمایانگر چه موضوعاتی هستند.
 ب) نقش خانوارها و بنگاه‌ها در بازار عوامل تولید، چیست؟



- ۱) الف) پرداخت‌های عوامل تولید - عوامل تولید - هزینه‌های تولید ب) بنگاه‌ها صاحبان عوامل تولید و خانوارها تقاضاکننده هستند.
- ۲) الف) کالا و خدمات - هزینه‌های تولید - پرداخت‌های عوامل تولید ب) خانوارها فروشنده و بنگاه‌ها خریدار عوامل تولید هستند.
- ۳) پرداخت‌های عوامل تولید - درآمد خانوارها - کالا و خدمات ب) خانوارها تقاضاکننده و بنگاه‌ها عرضه‌کننده عوامل تولید هستند.
- ۴) پرداخت‌های عوامل تولید - درآمد خانوارها - کالا و خدمات ب) خانوارها عرضه‌کننده و بنگاه‌ها خریدار عوامل تولید هستند.

کدام گزینه تفسیر درستی از نمودار عرضه و تقاضای نیروی کار زیر را ارائه می‌کند؟



- ۱) در محدوده‌ی شماره ۱، به علت دستمزد بالا، تقاضای نیروی کار بر عرضه‌ی آن فزونی دارد.
- ۲) راه رسیدن به نقطه‌ی تعادل از محدوده‌ی شماره ۲، کاهش دستمزد تا رسیدن به دستمزد تعادلی است.
- ۳) در محدوده‌ی ۲، اگر چه نیروی کار بیش‌تری حاضر به کار و فعالیت اقتصادی است، اما کارفرما تقاضای کم‌تری برای جذب نیرو دارد.
- ۴) در مثلث بالای نقطه‌ی تعادلی، تقاضای نیروی کار کم اما عرضه‌ی آن زیاد است و بازار با وضعیت کمبود تقاضا روبه‌رو است.

